

REPUBLIQUE DU CAMEROUN		CLASSE :TLE	
COLLEGE MODERNE BILINGUE ST FOCH		DUREE : 2H	COEF: 3
DEPARTEMENT DE GEOGRAPHIE		SESSION DE 2025 - 2026	
EXAMINATEUR: MME NSANNA		RIGUEUR – TRVAIL – SUCCES	

EPREUVE DE GEOGRAPHIE

PARTIE A: RESOURCE CHECKS (9pts)

A1. KNOWLEDGE VERIFICATION (5pts)

In a coherent production of 10 to 15 lines using two arguments shows that Cameroon is an Africa in miniature.

A2. : Vérification des savoir-faire (4 pts)

D'après la carte du Cameroun ci-jointe, indiquez :

- Les montagnes du Mandara
- La zone d'influence du climat équatorial maritime
- Pourquoi rencontre-t-on une végétation de forêt dense dans la partie sud du pays ?

PARTIE B : EVALUATION DE L'AGIR COMPETENT (09 PTS)

THEME : LA PROMOTION DU DEVELOPPEMENT INTEGRE

Document 1 : CONSTITUTION DE LA POPULATION

Le profil de la population camerounaise met en évidence des enjeux démographiques importants. La croissance démographique reste encore très élevée. Selon les résultats du 3ème RGPH réalisé en 2005, et sur la base du RGPH réalisé en 1987, la population camerounaise est estimée au 1er juillet 2019 à **24 348 251** personnes, dont 50,6% de femmes. La population camerounaise est essentiellement jeune. En effet, plus de la moitié de la population du Cameroun a moins de 20 ans, la population de moins de 15 ans représente 42,5% de l'ensemble, et la population de 65 ans ou plus s'élève à seulement 3,6%.

Document2 : REPARTITION DE LA POPULATION AU CAMEROUN


Les régions les plus peuplées sont celles du Centre, de l'Extrême-Nord et du Littoral, ayant respectivement un poids démographique de 19,1%, 18% et 15,3 % en 2019. La densité de la population augmente progressivement avec le temps. Elle est passée de 51,1 en 2018 à 52,2 en 2019. Cependant, il existe des disparités entre les régions. Alors que celle du Littoral et de l'Ouest est élevée avec 184 et 148 habitants au km², les régions de l'Est et du Sud sont faiblement peuplées, avec respectivement 8 et 17 habitants au km²

Consigne : Les documents ci-dessus évoquent traite de la population du Cameroun. Rédige une production cohérente en t'appuyant sur les tâches ci-après.


1. Présente deux caractéristiques de la démographie du Cameroun 3pts
- 2- Qu'est ce qui explique (02) arguments le déséquilibre dans la distribution de la population sur le territoire 3pts
- 3- Propose deux (02) solutions à l'administration du pays pour palier a ce déséquilibre 3pts

TITRE : INEGALE REPARTITION DE LA POPULATION DU CAMEROUN


LEGENDE :



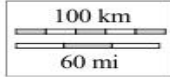
Forte densité de peuplement



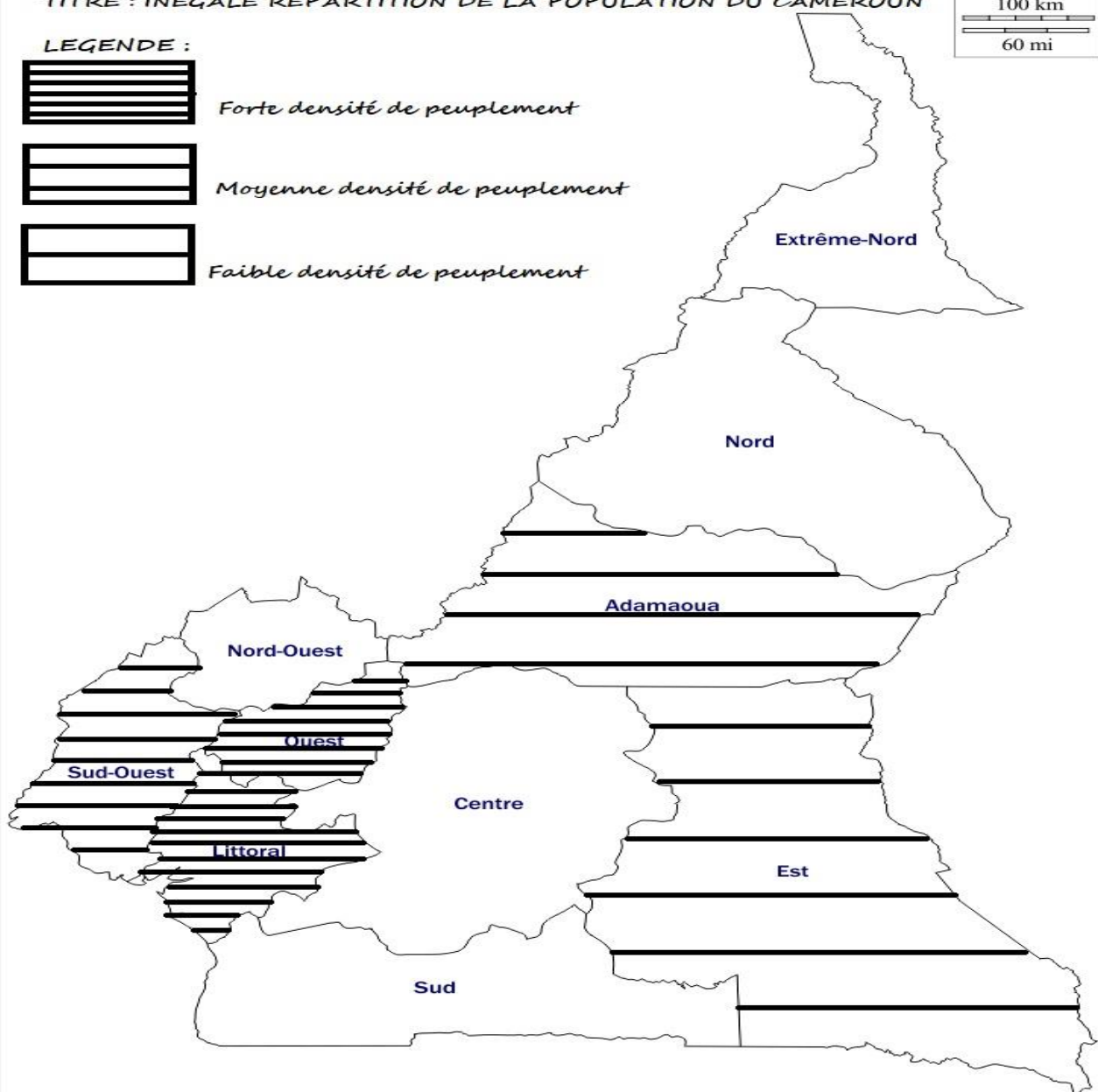
Moyenne densité de peuplement



Faible densité de peuplement



© d-maps.com



Présentation : 2pts

